

屏東縣立明正國民中學 113 學年度第二學期第三次段考八年級社會科試題卷

※公民 (1~11: 1分/題, 12~22: 2分/題; 共33分)

1. 一個人從出生到死亡都與行政法有關，為了讓同學更了解行政法的意涵，公民老師讓同學對於行政法的了解發表意見。下列誰的見解可能需要修正？(A)維德：《社會秩序維護法》是行政法的一種 (B)文惠：政府設計行政管制手段應避免過度規範 (C)盈璇：罰鍰屬於行政罰的一種 (D)婉真：行政罰是由法官做出裁決。
2. 下列是四位同學正在討論關於「救濟途徑」的對話，哪些人的觀念正確？(A)甲、乙、丁 (B)甲、乙、丙 (C)甲、丙、丁 (D)甲、丁。

甲：刑事案件若是由被害人委任律師所提起的訴訟，稱為自訴。
乙：人民只要不服行政機關的處分，一律直接到法院提出行政訴訟。
丙：對於不當的行政處分，人民可以向立法機關提起訴願。
丁：當私人間發生權利義務糾紛時，人民可提起民事訴訟。

3. 行政院食品藥物管理署為方便民眾可以快速且明確辨識口罩是否為國內產製之醫用口罩，規範自 109 年 9 月 17 日起，國內產製之平面式醫用口罩，須逐片以鋼印標示「MD」(即 Medical Device 之縮寫)及「Made In Taiwan」。此種政府制定規範來保障人民權益的作法，屬下列何種概念？(A)行政處分 (B)罪刑法定 (C)無罪推定 (D)行政管制。
4. 《公務員行政中立法》規定，公務員在執行職權時，應依法行政，不受黨派或利益團體操縱。請問：公務員被要求執行職權時要遵守法律的最主要目的是什麼？(A)確保政府的執法公權力 (B)落實《憲法》保障人權的精神 (C)避免人民作為危害國家安全 (D)落實民意政治的精神。
5. 為了保障兒少的權益與福利，政府制定了《兒童及少年福利與權益保障法》。該法包含許多福利措施與保護措施，下列何項行為屬於保護措施的一環？(A)宣導網路內容應分級 (B)提供兒少的家庭諮詢 (C)提供兒少的醫療照顧 (D)提供婦幼優先的車位。
6. 新聞報導：「某知名人士疑似涉及不法活動，經檢察官偵查後提起公訴，全案目前正由臺北地方法院審理中。」對於上述訴訟案件，法院最不可能出現下列何種判決結果？(A)處以有期徒刑 (B)宣告褫奪公權 (C)處以高額罰鍰 (D)沒收犯罪所得。
7. 《勞動基準法》可以保障兒少的工作權益，請根據以下內容判斷，若雇主違反該法可能要承擔下列何種責任？(A)道義責任、民事責任 (B)民事責任、行政責任 (C)民事責任、刑事責任 (D)行政責任、刑事責任。

- ◎依《勞動基準法》規定，童工是指達到一定的年紀，雇主若違法僱用年齡太小者，將處新臺幣 2 萬元到 30 萬元罰鍰。
- ◎依《勞動基準法》規定，童工不能在午後 8 時至翌晨 6 時之時間內工作，若雇主指派童工夜間工作，可處 6 個月以下有期徒刑。

8. 國三剛畢業的曉萱準備利用暑假前往住家附近的工廠打工，以賺取上高中的學費。曉萱如果要去打工，應該注意下列哪些事情？(甲)要年滿 15 歲 (乙)必須徵求父母同意 (丙)每天工作時間不得超過 10 小時 (丁)不得在例假日工作。(A)甲乙丙 (B)甲丙丁 (C)乙丙丁 (D)甲乙丁。
9. 17 歲少女因課業與精神壓力大而虐殺貓咪，觸犯《動物保護法》相關條文，該條文中對此行為的處罰為「二年以下有期徒刑或拘役」。根據上述內容判斷，下列敘述何者正確？(A)該少女行為屬於曝險少年行為 (B)該少女必須接受刑罰的處罰 (C)因情節重大，媒體可以公開該少女個人資料 (D)該犯罪情節屬於少年保護事件。
10. 阿喬初識四位朋友，問起年齡時，他們的回應分別如下：

胖虎：「今年的地方公職人員選舉我剛好可以投票。」
大雄：「我要等到明年才能合法去速食店打工。」
小香：「明天起我就不再適用《少年事件處理法》了。」
阿福：「還好已修法廢除兒童觸法事件，我不會被移送少年法庭，我以後絕不會再犯了。」

依我國法律規定，根據上述內容中的法定年齡判斷，四人的年齡由大到小排序為何？(A)胖虎、小香、大雄、阿福 (B)小香、大雄、胖虎、阿福 (C)大雄、小香、胖虎、阿福 (D)胖虎、小香、阿福、大雄。

11. 新聞報導：「網路世界潛在著危險，不分地域、性別、家庭背景，坐在「溫暖家中」的孩子並不安全。某檢察官提及曾經偵辦過的一件案子：嫌犯在臉書上以不同暱稱認識幼小男生，用手機遊戲的虛擬裝備和點數吸引孩子，要他們拍攝裸露的照片及影像。」請問：根據上文，檢察官應依下列哪一部法律對嫌犯提起公訴？(A)《兒童及少年性剝削防制條例》 (B)《性別平等教育法》 (C)《少年事件處理法》 (D)《兒童及少年福利與權益保障法》。

12. 2023 年底轟動社會的新北市國三生割喉命案，行凶的郭姓少年一審被判 9 年、叫喚的「乾妹」林姓少女則被判 8 年。新北地檢署認為量刑過輕，表示會提出上訴。2024/3/6 二審開庭，死者楊姓少年夫妻倆憶起兒子無辜慘死，心碎不已。父親發表聲明，希望高院法官可以重判兩人 30 年以上刑期。請問：此二名少年鑄下大錯，是以何法而移送法辦？(A)《兒童及少年福利與權益保障法》——少年刑事案件 (B)《少年事件處理法》——少年刑事案件 (C)《兒童及少年福利與權益保障法》——少年保護事件 (D)《少年事件處理法》——少年保護事件。
13. 有關罰金與罰鍰，下列何種解釋最正確？(A)罰金是補償給受害者，罰鍰則繳給政府 (B)罰金與罰鍰都是由法院宣告 (C)罰款金額不同，罰金較高而罰鍰較低 (D)罰金屬刑事制裁，罰鍰則屬行政罰。

14. 阿信的工作負責處理少年刑事案件，下列哪一起案件屬於他的工作範疇？

(A)	(B)	(C)	(D)
劉X娟 12歲 竊盜罪	蔡X煌 15歲 擄人勒贖罪	許X妙 18歲 殺人罪	郭X映 13歲 贓物罪

15. 阿文因犯罪遭少年法院(庭)裁定入少年矯正學校接受隔離式的感化教育，以期改過自新。下列有關此一事件的敘述，何者正確？(A)感化教育的執行者是少年保護官 (B)此事件屬於少年刑事案件 (C)感化教育是屬於保護處分 (D)阿文犯案行為時應已滿 19 歲。
16. 某學者在演講時提到：根據統計推估，全臺有約 3 萬 2 千名未成年人曾遭私密影像外流，其中四成六外流的影像是由兒少自身拍攝所產生，近七成的兒少是在被誘騙、要脅的狀況下，自拍照片後傳給加害人。2023 年，更爆出知名藝人向非法網站購買未成年性影像，引發社會譁然，紛紛要求立委補破網。立法院遂於 2024 年 7 月 12 日三讀修正通過《兒童及少年性剝削防制條例》部分條文，將「重製」(即下載)、「持有」、「支付對價」兒少性影像，納入性剝削行為樣態，嚴懲持有兒少性影像者，處 1 年以上、7 年以下有期徒刑。根據上述，學者在接下來的演講內容應不會提到下列何者？(A)持有兒少性影像要依《兒童及少年福利與權益保障法》懲處 (B)引誘兒少自拍私密照或性影像皆是犯罪行為 (C)持有或購買兒少性影像要負刑事責任 (D)兒少要具備法治觀念，懂得保護自己，也不成為散布性影像的幫兇。
17. 14 歲的小李因好奇與朋友嘗試 K 他命，起初每個月 1-2 次，成癮後每週吸 K 菸數次。一年前他開始頻尿，每 10 分鐘就要跑一次廁所，每次有尿意時，下腹就非常疼痛，尿量也越來越少，甚至曾經尿不出來。班導得知後，通知學務處處理，並安排多次輔導。輔導老師告訴他，K 他命雖非一、二級毒品，但被稱為「軟性毒品」，長期吸食會引起膀胱無力、血尿以及精神疾病，切勿嘗試。根據《少年事件處理法》，小李的行為屬於何種類型？(A)曝險少年 (B)少年保護事件 (C)少年刑事案件 (D)非行少年。

18. 公民老師在課堂簡報中，利用法條來講解課程內容，如附圖(一)。請問：此簡報在強調下列哪一概念？(A)政府與人民都應遵守法律 (B)行政法是《憲法》的具體化 (C)避免政府濫權因而產生行政法 (D)《憲法》規範人民的權利義務。

《憲法》
第61條：
行政院之組織，以法律定之。

《行政院組織法》
第1條：
本法依《憲法》第61條制定之。
第3條：
行政院設下列各部：內政部、外交部、國防部、財政部、教育部、法務部……。

圖(一)

19. 臺北市有一婦人帶小孩坐捷運，因小孩未跟著上車，她按下了「緊急按鈕」，卻被捷運局認為未達緊急狀況而遭罰鍰，婦人不服，於是經由捷運局向(甲)提起(乙)，以保障其權利。請問：(甲)、(乙)應分別為何者？(A)法院、請願 (B)法院、訴願 (C)臺北市政府、訴願 (D)臺北市政府、民事訴訟。
20. 2022 年 4 月時，政府修正《道路交通管理處罰條例》，將「電動自行車」更名為「微型電動二輪車」，加入應領用並懸掛車牌進行管理、投保強制汽車責任保險、年滿 14 歲才能駕駛等規定，違規者將遭主管機關開罰，並於 5 月 4 日由總統公布。此外，若在修正規定施行前就已持有微型電動二輪車的車主，須在施行後的二年內領用並懸掛車牌，逾期亦將受罰。由於法規修正後，仍有諸多行政工作需要時間準備，因此政府宣布這些修正規定在 2022 年 11 月 30 日才正式施行。根據文中內容判斷，在修正規定施行前已持有微型電動二輪車者，關於其領用車牌的敘述，下列何者最適當？(A)最晚要在 2024 年 5 月 3 日領用車牌，以免遭受行政處罰 (B)最晚要在 2024 年 5 月 3 日領用車牌，以免遭受刑事處罰 (C)最晚要在 2024 年 11 月 29 日領用車牌，以免遭受行政處罰 (D)最晚要在 2024 年 11 月 29 日領用車牌，以免遭受刑事處罰。
21. 下文中對賣菸給未成人之業者的處罰類型，也可適用於下列何者？(A)拒絕償還債務的朋友 (B)竊取他人財物的小偷 (C)家暴導致兒童受傷的父母 (D)未限期改善消防設施的餐廳老闆。

《菸害防制法》明定任何人不得販售菸品予未成年人，但歷年來成效不彰，為遏阻業者賣菸給未成年人，有立委提案應對營業人祭出停止營業的處罰。

22. 小浚是個 14 歲的國中學生，父母在車禍中不幸喪生，對於像小浚這樣因家庭遭受重大變故的孩子，為確保其身心健全發展，政府依法須給予適當安置。請問：此為何種法律的規定？(A)民法 (B)刑法 (C)兒童及少年福利與權益保障法 (D)少年事件處理法。

※歷史 選擇題：(23~32 每題 2 分；33~44 每題 1 分，共 34 分)

23. 「各地政府派出工作隊深入農村訪貧問苦，逐步發動群眾，建立以貧雇農為核心的農民協會，隨後進行階級劃分，展開對地主面對面的鬥爭，揭露他們的罪惡，打垮他們的威風，並接地主的土地與財產，分配給無地、少地的農民……，這是共產黨領導下，徹底剷除封建剝削制度的一場深刻社會革命。」請問：這段文章的背景應是？
 (A) 國民政府遷臺後，推動土地改革穩定經濟 (B) 韓戰爆發前，中國人民發起階級鬥爭運動 (C) 中共建國後，實施土地改革鞏固政權 (D) 北越共產黨藉由土地改革發起群眾運動。
24. 關於大躍進的推動，請問：下列何者正確？(A) 利用人民公社，集體生產，促使各項生產逐步上升 (B) 推動全民大煉鋼鐵，聘用德國工程師協助土法煉鋼術 (C) 採用集體勞動模式，社會發展積極正向，人民樂在工作 (D) 人民過度勞動，糧食生產不足，三千萬人死於飢荒。
25. 下面三張圖片顯示中、蘇、美關係的變化。請問：下列敘述何者正確？(A) 依圖片發生的時間順序排列為(乙)(甲)(丙) (B) (甲)圖中、蘇關係的演變是由於兩國對於中共的文化大革命有不同意見 (C) (乙)圖的歷史背景為蘇聯欲拉攏中國，一起對抗美國 (D) (丙)圖為 1950 年代中共外交上，採取對蘇聯「一邊倒」的政策，對內則接受蘇聯各項援助。



26. 共產黨統治中國之後，於 1972 年訪問中國，與毛澤東碰面的美國總統為何人？(A) 甘乃迺 (B) 林肯 (C) 尼克森 (D) 歐巴馬。
27. 西元 1966 年，中共各類出版品總數約有 45000 種，但是隔年卻只有 3,000 種書籍出版，一年內就減少了約 95% 的出版品。請問：造成中共出版品大量銳減的原因是？(A) 大躍進時期偏重農工發展，導致書籍滯銷，出版品減少生產 (B) 文化大革命主張破四舊，大量銷毀舊有書籍，並禁止出版品生產 (C) 六四天安門事件後，繁體書籍出版品遭政府嚴格審核 (D) 改革開放後，被西方文學書籍大量流入所取代。
28. 承上題，下列由中共所出版的書籍中，何者最可能於西元 1967 年出版？(A) 《我們的榜樣：蘇聯》(B) 《文明的浩劫：毛澤東與文化大革命》(C) 《毛主席：我心中的紅司令、紅太陽》(D) 鄧小平《六四事件的始末》。
29. 下列中國哪些事件發生在毛澤東逝世前？(甲)大躍進 (乙)六四天安門事件 (丙)中美建交 (丁)文化大革命 (戊)派志願軍參加韓戰。(A) 甲乙丁 (B) 乙丙戊 (C) 甲丁戊 (D) 甲丙丁。
30. 某周刊指出：「2008 年中國城市人口中，收入 20% 的富人擁有金融資產的 66.4%，而後 20% 的窮人僅擁有金融資產的 1.3%，顯示多數財富集中於少數人手中。」請問：上述現象的出現與何人的治理關係最為密切？(A) 毛澤東 (B) 劉少奇 (C) 鄧小平 (D) 胡錦濤。
31. 某報評論：「此事爆發已 36 週年，且為中華人民共和國歷史的一個轉折關鍵，政治環境開始大幅收緊，改革開放腳步也趨緩，經濟發展受到打擊，至今事件相關用語不會出現在官方媒體，民間評論也會被官方屏蔽，成為一場『沒有記憶』或『不敢有記憶』歷史事件。」請問：文中評論之「事」爆發原因為何？(A) 文化大革命 (B) 學生爭取民主改革 (C) 大饑荒 (D) 全國的企業強制收歸國有。
32. 1982 年中國修改憲法，加入了「特別行政區」條文，為○與○回歸提供基礎，以減少統治上的困難，及當地居民對於現狀改變的疑慮。請問：○與○是指那裏？(A) 海南、香港 (B) 西藏、海南 (C) 香港、澳門 (D) 西藏、香港。
33. 21 世紀的中國，經濟實力和國際地位全球有目共睹，但在其他方面仍遭遇重大挑戰。請問：下列何者「並非」中共所面臨的問題？(A) 壓制民主活動，戕害人權 (B) 國內貧富差距日益擴大 (C) 與外國領土糾紛的爭議 (D) 女多男少，性別比例失衡。
34. 右表(一)為中華人民共和國建國後曾經大力推廣的政策標語，根據內容研判，請問：最早出現的是政策標語為何？(A) 甲 (B) 乙 (C) 丙 (D) 丁。

表(一)

甲	超英趕美
乙	抗美援朝
丙	破四舊、立四新
丁	民主萬歲，人民萬歲

◎閱讀下列短文，回答第 35~36 題

2019 年夏天至今，香港反送中運動持續進行。香港人民透過抗爭、示威、閃電集會等手段，要求香港政府進行改革。許多學者、媒體都將反送中運動和 1989 年的天安門事件作比較。這兩場運動都有類似的訴求，中共回應的方式也極其相似。各國媒體與領導人都相繼使出手段施壓中國，但依舊得不到中國正面的回應。

35. 請問：上文中這兩場運動最終的訴求，是下列何者？(A)科學、民主 (B)人權、民主 (C)科學、國防 (D)人權、科學。
36. 中共回應的方式為下列何者？(A)不接觸、不妥協、不談判 (B)積極調整原有政策 (C)以溫和方式來回應民眾訴求 (D)派出軍事武力鎮壓。
37. 右圖(一)為 1950 年代菲律賓所設計的反共海報，呼籲菲律賓人民：「壓制共產主義、是你我的責任」。請問：關於此海報的時代背景，下列何者有誤？(A)美國將菲律賓納入亞太圍堵體系的一部分 (B)美國提供菲律賓經濟與軍事援助 (C)菲律賓國內的共產黨武裝勢力是受到德國的支持 (D)菲律賓最後和民主國家合作，合力圍堵共產勢力。
38. 右圖(二)呈現冷戰時期的東亞關係。根據此圖，請問下列敘述何者正確？(A)東亞的共產國家為甲、乙、丙 (B)辛線為美國所建立的西大西洋反共防線 (C)美國對圖中丁、戊、庚等國提供經濟與軍事援助 (D)越戰爆發後美國派第七艦隊協防中國。
39. 二十世紀起，美國積極介入國際事務。1960 年代起，亞洲某一場以美軍為主力的軍事行動中，美國除了原子彈沒有動用外，幾乎把當時的尖端武器如直升機等都用上了，也付出三十多萬傷亡的代價，最終還是被迫撤離。這場軍事行動的地點，最有可能是上圖中那一個地點？(A)甲 (B)丙 (C)戊 (D)己。
40. 下圖(三)為韓戰期間甲國的宣傳海報，圖(四)為朝鮮半島形勢圖。請問：下列敘述何者「正確」？(A)圖(三)的「抗美援朝，救隣自救」是指援助圖(四)的乙國 (B)聯合國部隊支援圖(四)丙國 (C)甲國與蘇聯是同一陣營 (D)1953 年協議停戰時，南、北韓仍以南緯 38 度為界線。



圖(一)



圖(二)



圖(三)

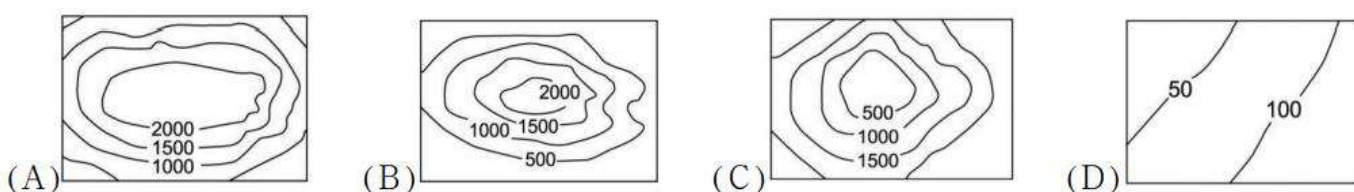


圖(四)

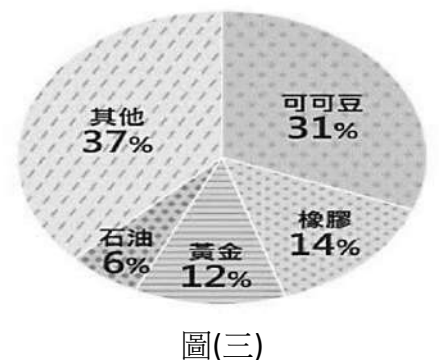
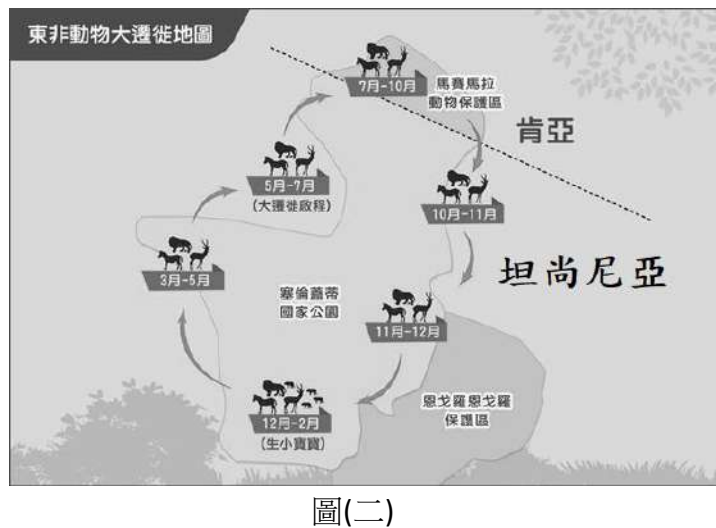
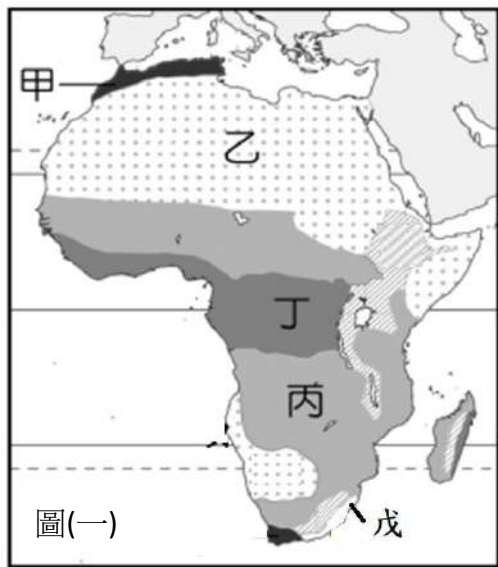
41. 這些年來，隨著臺灣越南籍配偶人數的增加，我們也應對越南的歷史及文化，有更進一步的了解，請問：下列有關越南的相關描述，何者正確？(A)1954 年，越南脫離美國統治後，分裂為北越和南越 (B)美國於 1961 年出兵援助南越 (C)南越、北越以北緯 17 度線停戰至今 (D)1976 年，南越統一全國，越南成為共產國家。
42. 1950 年代起，美國因應共黨國家在東亞的擴張，聯合友好國家採取圍堵政策，防止共產勢力擴大。請問：下列選項中，何者是圍堵政策的產物？(甲)中美共同防禦條約 (乙)東南亞國協 (丙)東南亞公約組織 (丁)世界貿易組織 (A)甲乙丁 (B)甲丙 (C)甲乙丙 (D)乙丁。
43. 東南亞國協原本以東南亞國家為主，後來逐步與中國、日本、南韓進行經濟交流與合作，形成「東協+3」。東協轉型與下列哪一因素最為相關？(A)為打入中國廣大市場 (B)美蘇冷戰趨緩 (C)冷戰時期結束 (D)韓戰結束。
44. 1979 年美國因與中國建交，故宣布與我國斷交，並廢止中美共同防禦條約。請問：美國以何種方式，維持與我國的往來？(A)簽署臺美自由貿易協定 (B)制定臺灣關係法 (C)簽署雅爾達宣言 (D)支持臺灣加入世界衛生組織。

※地理 (45~56 題，每題 2 分；57~66 題，每題 1 分)


45. 吉力馬札羅山意為「燦爛發光的山」，是非洲最高峰，有「非洲屋脊」之稱。山頂終年被冰帽覆蓋，但從上世紀起，山頂冰雪快速消失，從 1912 年到 2009 年冰川已萎縮 85%。上述高山有積雪的原因為何？(A)氣溫太高 (B)高度較高 (C)緯度較低 (D)植物較少。
46. 極地超馬運動員陳彥博征戰非洲肯亞 230 公里超馬賽，從賽前服用抗瘧疾藥物而產生不適，到面對地形考驗、對手追趕，儘管疲累仍展現強大意志力，以 21 小時 18 分鐘完賽奪冠。上述運動員所面對的地形考驗是指下列哪一地形類型？



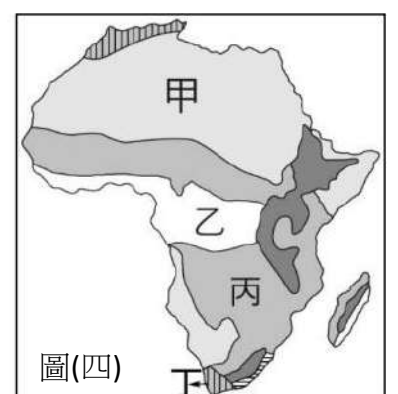
47. 「流域共構：雲嘉南百年水利與環境特展」展覽，介紹北回歸線經過的雲嘉南平原，是臺灣的穀倉。這條緯線也會通過非洲的哪一地區？(A) 剛果盆地 (B) 納米比沙漠 (C) 撒哈拉沙漠 (D) 喀拉哈里盆地。
48. 誠意在抄非洲地理特色的重點整理，因一時疏忽，把當中哪一項抄錯？(A) 漠南非洲以黑人為主 (B) 南非曾實施種族隔離 (C) 東非地勢高氣溫涼爽 (D) 非洲是一塊獨立的次大陸。
49. 圖(一)為非洲氣候分布圖，請問下列有關圖中代號所在位置的氣候敘述，何者正確？(A) 甲和戊的主要雨季月份相同 (B) 乙區沿海暖流經過，不易降水 (C) 丙區高溫多雨，樹冠茂密 (D) 丁區夏乾冬雨，氣候宜人。



50. 每年超過一百萬頭黑尾牛羚、數萬頭斑馬和瞪羚，在圖(二)坦尚尼亞與肯亞之間集體遷移覓食。關於這個現象，下列敘述何者正確？(A) 動物遷徙到肯亞時，為當地夏季 (B) 動物遷徙區域的植被，為熱帶雨林 (C) 動物遷徙回到坦尚尼亞時為乾季 (D) 受西風影響，雨季時間不同形成動物遷徙。
51. 圖(三)為漠南非洲某國家主要出口品項比例圖，由圖可以判斷下列哪一訊息？(A) 對外貿易順差 (B) 該國最可能分布在北部非洲 (C) 經濟結構具殖民經濟特徵 (D) 國內糧食供給充足且能出口。
52. 2020年非盟峰會之機，衣索比亞牽線促成了索馬利亞總統法馬喬，與索馬利蘭總統比習舉行世紀「馬習會」。這是位於非洲之角的分裂國家久違的領袖會面，主要是讓兩個國家／政治實體試圖重拾對話，並緩解領土紛爭。請問：造成此一現象的原因為何？(A) 宗教信仰不同，各自獨立 (B) 各地區獨立時，依列強勢力範圍劃定國界 (C) 居民逐水草而居，遷移他國 (D) 人口過多，政府協助移居他國。
53. 荷蘭市佔第一的東尼巧克力，刻意做成不規則的形狀，來傳達可可產業中的不平等現象。全球總產量60%的可可，產自於非洲迦納與象牙海岸，當地約有210萬名兒童需要中斷學業，從事採收、噴灑農藥、操作機具等重勞力工作，最小童工只有5歲。上述關於種植可可的農業生產型態敘述，何者正確？(A) 利用當地廉價勞工 (B) 粗放的自給性農業 (C) 耕種2~3年後，需要休耕 (D) 分布於溫帶地中海氣候。
54. 非洲由於撒哈拉沙漠的隔絕，南北族群文化上有很大差異。關於非洲多元族群與文化，下列哪一敘述正確？(A) 馬賽人是主要分布於肯亞與坦尚尼亞的游耕民族 (B) 漠北非洲以黑人為主，多為傳統部落社會 (C) 漠南非洲以阿拉伯人為主，多信奉伊斯蘭教 (D) 馬達加斯加島上有南島語族的馬拉加西人。
55. 見文老師第一次喝到有濃郁花香、果香及葡萄酒顏色，豐富酸質的耶加雪菲咖啡時，非常驚豔。耶加雪菲、西達摩…等世界知名的精品咖啡豆，皆來自於咖啡的發源地—衣索比亞，這項作物更成為影響該國經濟發展的指標。請問：衣索比亞這項產業的發展特色主要受下列何者影響？(A) 礦產資源豐富 (B) 自然生態保育 (C) 殖民地式經濟 (D) 種族隔離政策。
56. 品睿看完「利未亞的禮物—生活中的非洲植物誌：給大人的植物學，來自非洲大陸的植物學啟蒙」這本書，他對照地理課本，發現受氣候影響，無法在非洲找到下列哪一種天然植被？

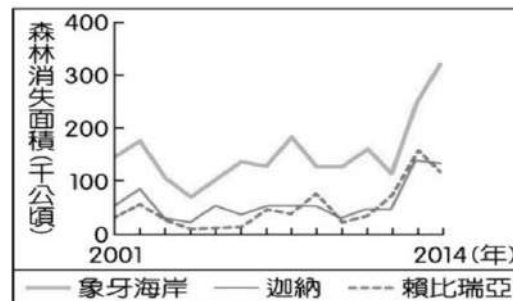


57. 「我出生的時候，查德湖有一萬平方公里大，是非洲第五大的淡水湖。但是現在，它只剩下1250平方公里…」38歲的軒杜感嘆，不到40年，因為氣候變遷，查德湖的面積僅剩原來的約十分之一。過去，查德湖作為最大沙漠地區南緣為數不多的淡水湖，當地農、漁民依賴甚深，如今他們成為極端氣候下最大的受害者。根據上文描述，這個湖泊位於圖(四)中哪一氣候帶南緣？(A) 甲 (B) 乙 (C) 丙 (D) 丁。





圖(五)



圖(六)

58. 科普網站介紹旅客在非洲體驗大自然，附上圖（五），提醒務必注意哪一件事項？（A）政局不穩 （B）公共衛生
（C）交通不便 （D）糧食問題。
59. 森林的消失受各種不同的自然及人為因素影響，大規模種植作物為重要因素之一。圖（六）為某國際組織運用衛星影像資料，推算非洲三個國家自 2001 年至 2014 年森林消失面積的統計資料。圖中森林面積的變化最可能反映何種作物的大量栽種？（A）棉花 （B）小麥 （C）橄欖 （D）可可。
60. 「南非政府為了打擊非法採礦， 2024 年 11 月開始派遣警力封鎖西北省一處廢棄金礦，還切斷藏匿地底的非法礦工飲食，希望迫使他們離開礦坑；結果其中有 500 多人因為害怕遭到逮捕，持續滯留礦坑，當局週一開始展開救援行動，已救出 246 名倖存者，不過也尋獲 78 具礦工遺體。」關於上述當地的礦業發展，與何者無關？（A）古老陸塊 （B）殖民地式經濟 （C）易受國際市場價格波動 （D）吸引大量歐洲白人移民。
61. 東非大裂谷南緣的馬拉威湖，是狹長型的湖泊，約臺灣土地面積的 80%。它有一個美麗的名稱：星之湖（The Lake of Stars），因為湖面上的漁船燈火就像是天上繁星點點。請問這個湖泊其成因與下列何者有關？（A）侵蝕（B）堆積（C）搬運（D）斷層。
62. 「在肯亞，無論是繁華都市的高檔酒店，還是偏遠街巷的路邊小攤，行動支付系統 M-Pesa 的綠色標誌幾乎隨處可見。在度假勝地和旅遊景區，行動支付更是成為主流。在非洲，移動支付的快速發展和普及程度令人刮目相看，人們出門只需攜帶一部手機，錢包已不再是必需品。」根據上文所述，造成漠南非洲行動支付盛行的原因為何？（A）跟流行的人多 （B）詐騙集團猖獗 （C）基礎建設不足 （D）平均所得較低。
63. 在電影《黑豹》中，劇組除了融入許多非洲部落的文化，還特別使用了科薩語的官方語言，藉此替瓦干達的世界觀增添更多真實性。劇組可能採用下列哪一項文化？（A）足球運動 （B）打獵與採集 （C）漢諾威教堂 （D）占內清真寺。
64. Youtube 上，一部名為《My Sunshine》的影片，引發韓國網友的關注與熱議。影片熱議的最大原因，奈及利亞拍攝的故事，對白和場景卻創新地融入韓語。電影產業是奈及利亞僅次於農業的第二大產業，全國超過百萬人靠拍電影維生。2015 年 Netflix 還設立了專門的「奈萊塢」頻道搶先業界，布局好萊塢、寶萊塢以外的非洲新勢力。「奈萊塢」影音串流發展與何者關聯最大？（A）人口眾多 （B）手機普及 （C）殖民經濟 （D）面積廣大。

◎ 南非開普敦被稱為世界最美麗的城市之一，有被譽為「上帝的餐桌」的桌山。開普敦半島的頂端是 OOO 與大西洋的交匯點好望角（Cape of Good Hope）。城外的斯泰倫博斯鎮，是當年歐洲移民開普敦後第二大聚集地。大量的歐洲移民加上當地肥沃的土地及完美的氣候，成了南非葡萄酒業的中心。請回答 65~66 題：

65. 開普敦半島的頂端是 OOO 與大西洋的交匯點好望角，請問「OOO」是指哪一海域？（A）紅海 （B）地中海
（C）太平洋 （D）印度洋。
66. 城外的斯泰倫博斯鎮，當地的氣候特色為何？（A）夏乾冬雨 （B）不易降水 （C）夏雨冬乾 （D）高溫多雨。